

Fahrauftrag CM-Lauf OF 30.04.2011

Streckenlänge gesamt FA 1 - 3 : **km**, Streckenzeit gesamt : **Min.**

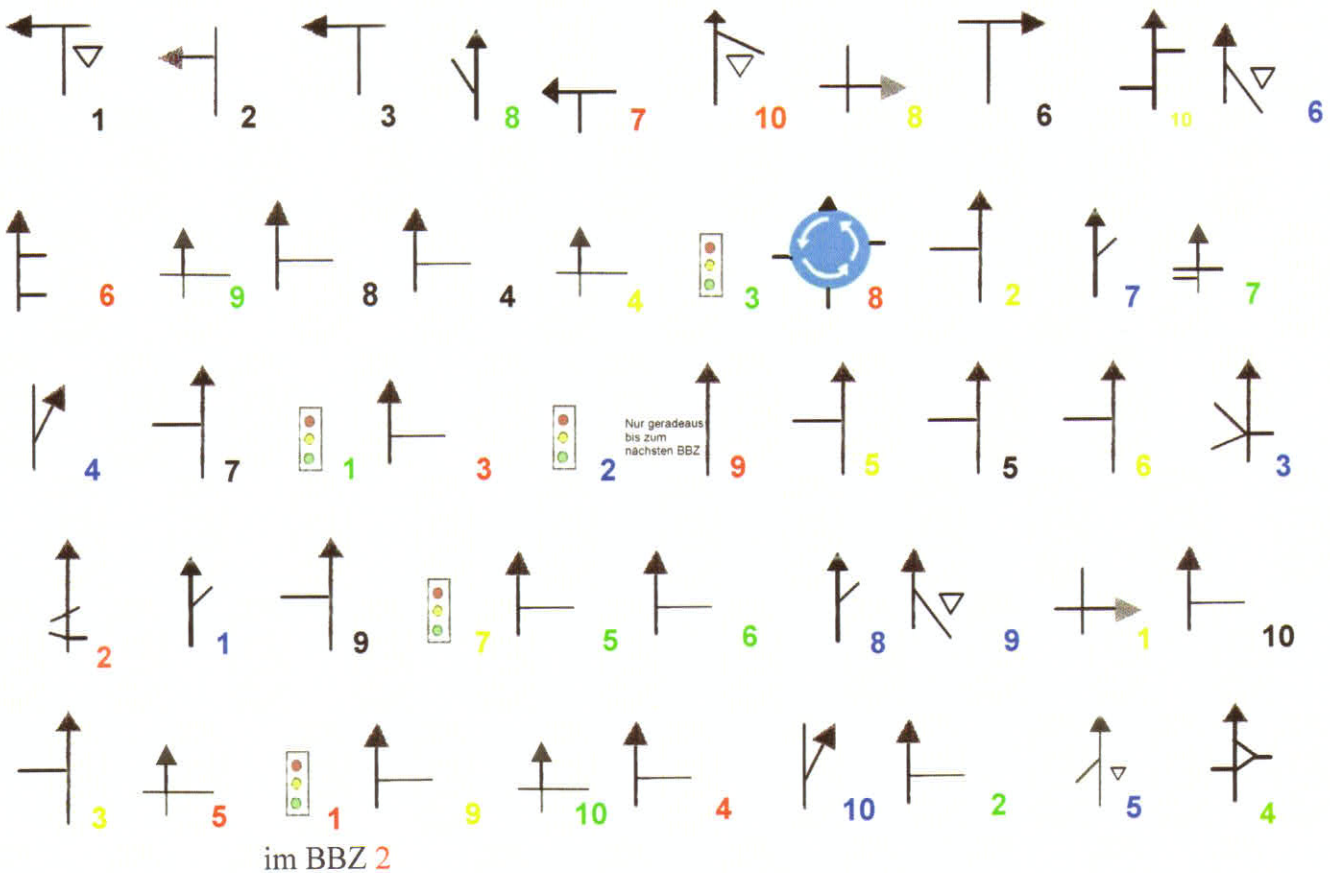
Gefahren wird nach StVO und auf eigenes Risiko. **Notfall-Tel. 0171 4127859.**

Unbesetzte DK sind im Fahrauftrag mit **DK** benannt. **Rote Ziffern** in Klammern geben die km-Entfernungen ab Start an. Unvorhergesehene Unpassierbarkeiten im Streckenverlauf sind nach Karte oder Natur zu umfahren und danach die Fahrt (laut Fahrauftrag) fortzusetzen. Karrenzeit: **30 Min.** Veranstaltungsende Uhr.

Fahrauftrag 1:

Streckenlänge Fahrauftrag 1: **23,0 km** Streckenzeit Fahrauftrag 1: **46 Min.**

Fahren Sie die BBZ in jeweils in numerischer Reihenfolge von 1-10 und nach folgendem Schema ab:



DK 1 : Im **BBZ 6** Haus-Nr. des letzten Hauses vor Abbiegen ?

DK 2 : Im **BBZ 10** letzte Haus-Nr. vor Einmündung ?

DK 3 : Nach Einmündung im **BBZ 6** Haus-Nr. des 3. Hauses links ?

DK 4 : Welche Haus-Nr. hat „Tommi´s“ im **BBZ 7** ?

DK 5 : Name der Tankstelle im **BBZ 10 (7,6)** ?

DK 6 : Im **BBZ 2** Hinweis auf eine Gaststätte. Name des Baumes darauf ?

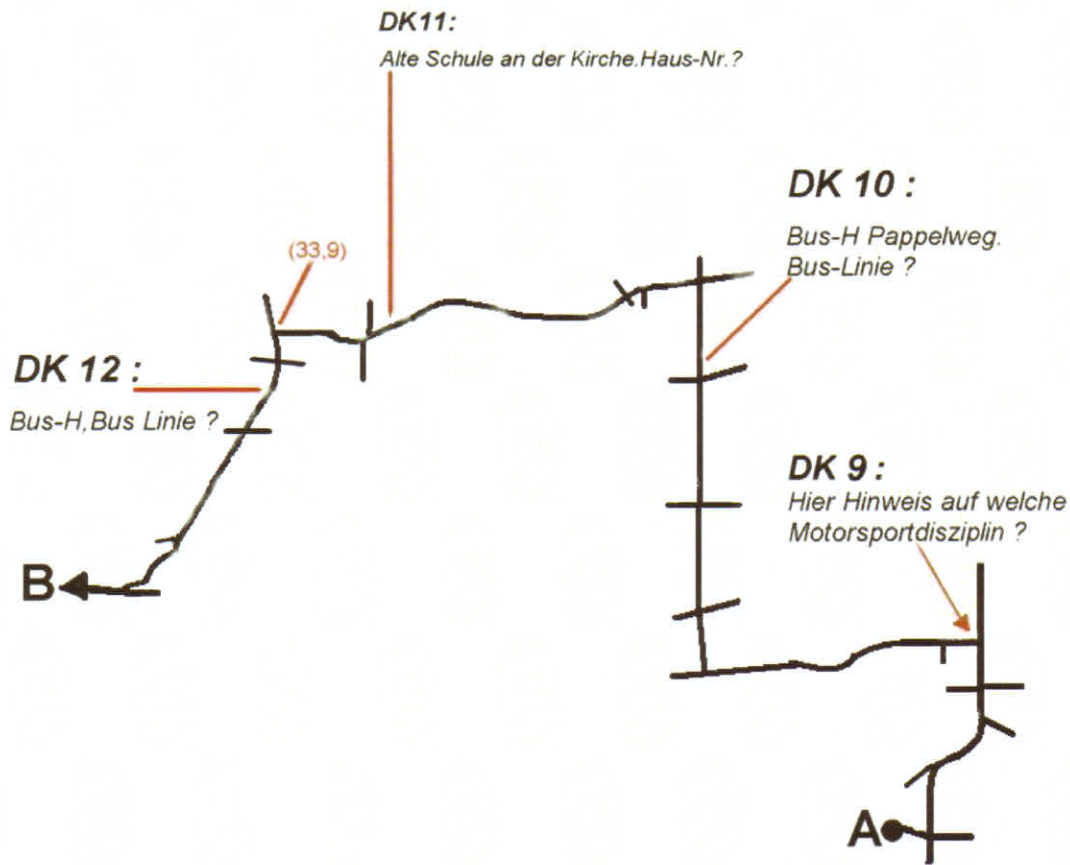
DK 7 : Welche **U** ist im **BBZ 7** ausgeschildert ?

DK 8 : Im **BBZ 10 (23,0)** Brücke mit auskilometriertem Punkt. Km-Angabe ?

Fahrauftrag 2 :

Streckenlänge Fahrauftrag 2: **103,3 km** Streckenzeit Fahrauftrag 2: **207 Min.**

Fahren Sie von **A**, nach Erreichen einer Ampel (**23,2**), nach **B** (), der nicht maßstabgerechten Skizze. **P, T, R**, - - werden nicht berücksichtigt.



Von **B** fahren Sie zum **BBZ**

, zum **Punkt X** und **OE (53,7)** im **Plan A**.

DK 13 :

Bei OP 8 und Aktivmarkt
Apotheke. Name ?

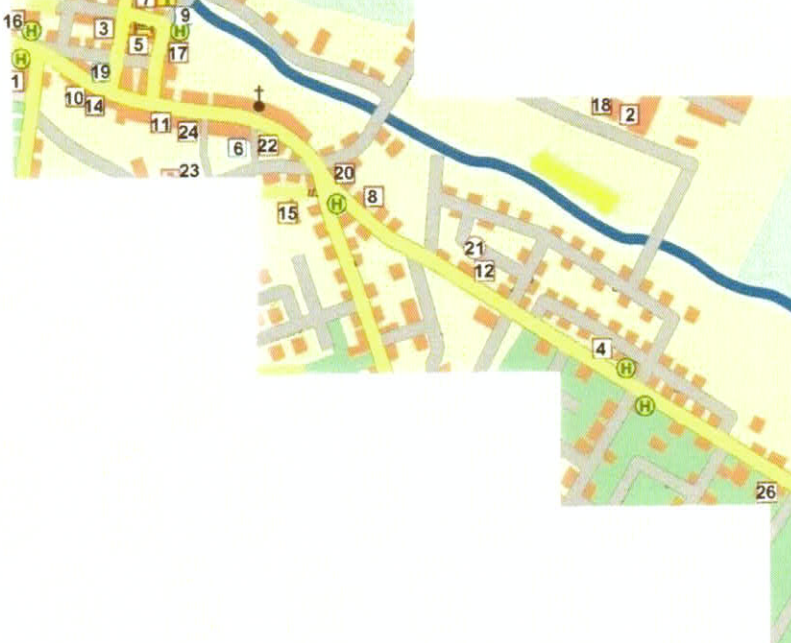
DK 14 :

Gegenüber OP 17 Hotel
(links). Name des Hotels ?

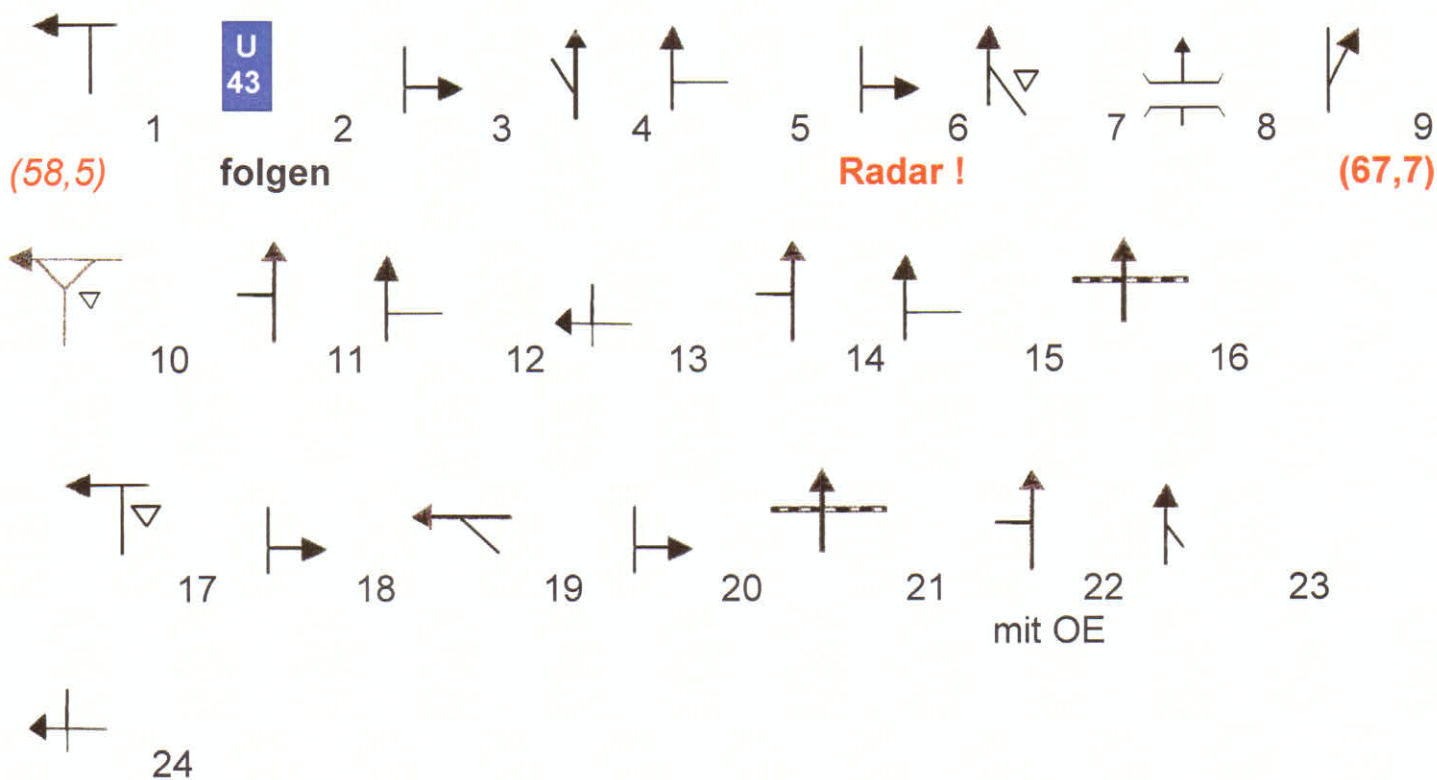
DK 15 :

Nahe OP 13 bei Tachostand
57,0 nach Start Autohaus.
Name ?

Fahren Sie im Plan A vom Punkt X die Orientierungspunkte in folgender Reihenfolge an : 25 - 4 - 12 - 8 - 20 - 17 - 7 - 13



Benutzen Sie ab **OP 13** () folgende **BBZ** in numerischer Reihenfolge :



DK 16 : Zwischen **BBZ 7** und **8** Hinweis auf Gestüt. Am auskilometrierten Punkt ?

DK 17 : Irgendwann nach **BBZ 10** bei **(69,8)** links Storchennest. Welches Kennzeichen hat dieses Storchennest ?

DK 18 : Nach **OA** ist **BBZ 16** mit wieviel km/h zu passieren ?

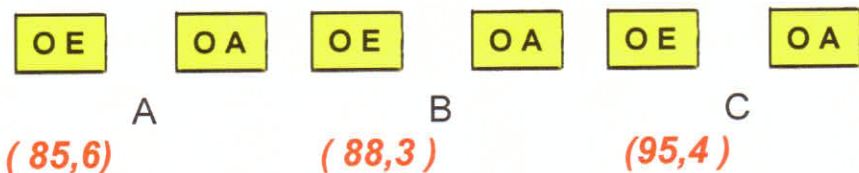
DK 19 : Im nächsten Ort nach **BBZ 17** (**OE = 73,0**) Kirche mit Torbogen. 3. Wort der Inschrift darauf ?

DK 20 : Am **OE** (**77,0**) Hinweis auf km/h. Wieviel km/h ?

DK 21 : Wieviel m vor **BBZ 24** Hinweis auf „Vorfahrt beachten“ ?

DK 22 : Nach **BBZ 24** .Name darauf ?

Ohne abzubiegen weiter nach:



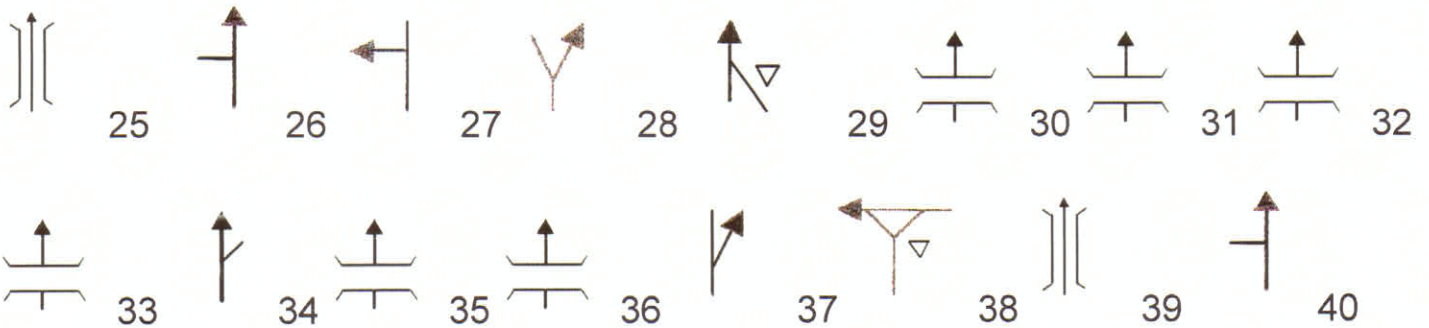
DK 23 : Nach **OE** von **Ort A** edis-Kasten .Nr.darauf ?

DK 24 : Nach **OE** von **Ort B** Kita. Name ?

DK 25 : Im **Ort C** Haus mit gelben Löwenköpfen am Torgitter. Haus-Nr. ?



und danach (wenn nicht ausdrücklich erwähnt, ohne Berücksichtigung von Tankstellen und Raststätten) weiter nach folgender Streckenbeschreibung :



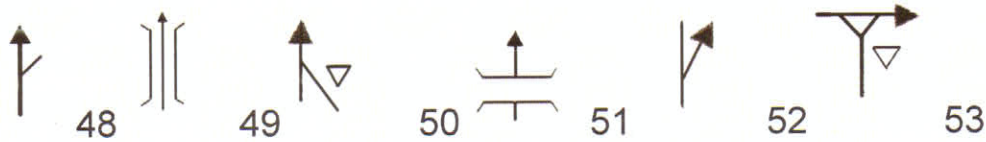
(111,2)

DK 26 : Im **BBZ 37** auskilometrierter Punkt. Km-Angabe

DK 27 : Welchen **U** folgen sie mit **BBZ 38** ?

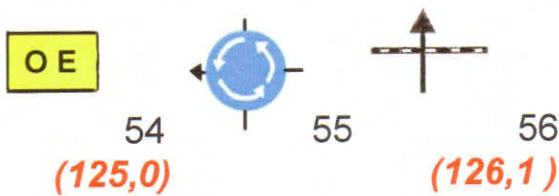


den U aus BBZ 38 und U 53 nicht weiter folgen



(123,7)

DK 28 : Im **BBZ 52** auskilometrierter Punkt. Km-Angabe



(125,0)

(126,1)

Durchfahren Sie die Stadt (laut **BBZ 54**) ab **BBZ 56** nach **Fahrauftrag 3** !


Fahrauftrag 3 :

Streckenlänge Fahrauftrag 3: **km** Streckenzeit Fahrauftrag 3: **Min.**

Sie durchfahren die Stadt im **Plan B** ab **BBZ 56** aus Fahrauftrag 2.

Sie fahren jetzt so weiter durch diese Stadt, dass Sie bei der letzten angegebenen Hausnummer/Grundstück(rechts) oder anderer Angabe in numerischer Reihenfolge jeweils rechts bzw.links abbiegen(s. Tabelle).



Lfd. Nr.	Haus-Nr.o.ä.	Richtung	Lfd. Nr.	Haus-Nr.o.ä.	Richtung
1	6	rechts	12	6	rechts
2	gleich wieder	links	13	Kreis-museum	rechts
3		rechts	14	anno 1757	rechts
4	49	rechts	15	dritte	rechts
5	19	links	16	25	rechts
6	6	links			
7	9	links			
8	28	links			
9	Spar-kasse	rechts			
10	19	links			
11	49	links			

DK 28 : Bei **Nr.2** der Tabelle feststellen,wann das Objekt RE 38660 den Plan B am Mittwoch verlässt.

DK 29 : Nach **Nr.6** der Tabelle Kino.Name ?

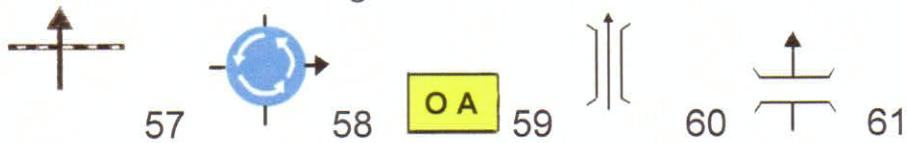
DK 30 : Danach Apotheke. Name ?

DK 31 : Im Haus-Nr.28 unter **Nr.8** Krankenkasse. Welche?

DK 32 : Zwischen **Nr.9** und **Nr.10** Parkscheinautomat.Vor welcher Haus-Nr.?

DK 33 : Was ist unter **Nr.14** mit „ anno1757“ gemeint ?

Fahren Sie nach **Nr.19** aus der Tabelle der Seite 4 nach folgender Streckenbeschreibung auf der Bundesstraße weiter.



Nach BBZ 61erreichen Sie den **Punkt X** in folgender Luftaufnahme.Vom Punkt X fahren Sie auf kürzestem Weg zum **Punkt 0**,dem Zielobjekt ().

